



# Le m'entraîne



## Exercice n° 1


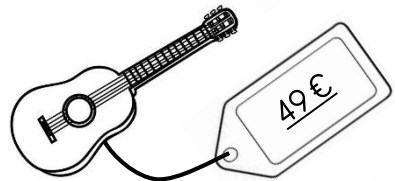
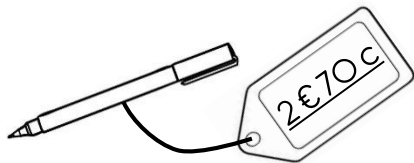
Quelle somme Inès a-t-elle dans son porte-monnaie ?



Réponse

## Exercice n° 2

Dessine le moins de pièces et de billets possible pour payer ces objets.



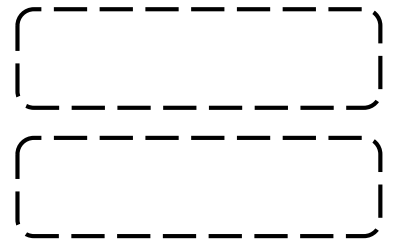

## Exercice n° 3

Complete pour faire 1 €.



- a) 50 c + ..... = 1 €
- b) 30 c + ..... = 1 €
- c) 90 c + ..... = 1 €
- d) 25 c + ..... = 1 €
- e) 70 c + ..... = 1 €
- f) 65 c + ..... = 1 €

# Le m'entraîne



## Exercice n° 1

Calcule ces opérations.

a)  $4 \text{ €} + 3 \text{ €} 15 = \dots\dots\dots$

c)  $8 \text{ €} 30 - 3 \text{ €} = \dots\dots\dots$

b)  $7 \text{ €} 50 + 6 \text{ €} 50 = \dots\dots\dots$

d)  $10 \text{ €} - 6 \text{ €} 40 = \dots\dots\dots$



## Exercice n° 2

Arthur a cette somme dans son porte-monnaie. Il veut acheter la toupie.

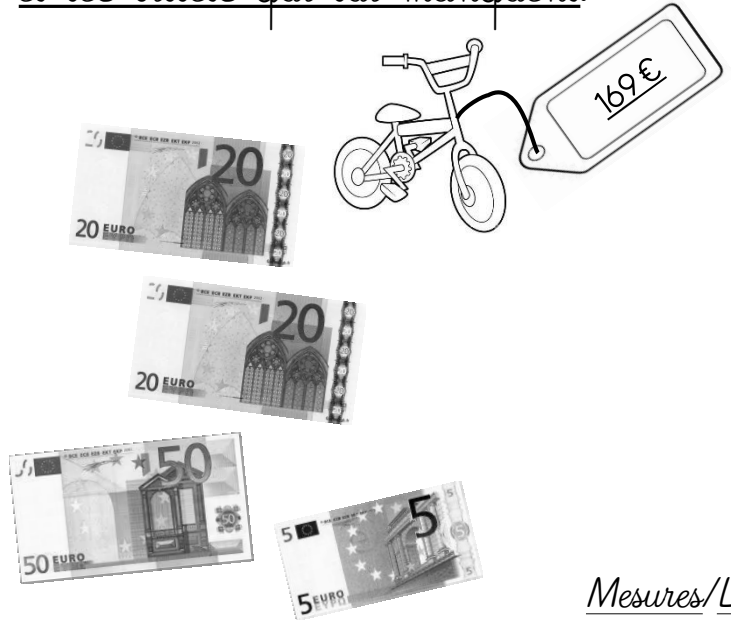
Entoure ce qu'il va dépenser.




Il lui restera .....

## Exercice n° 3

May-Li veut acheter ce vélo. Dessine les pièces et les billets qui lui manquent.



# Le m'entraîne



## Exercice n° 1

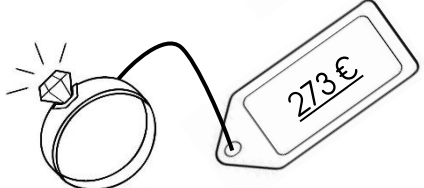
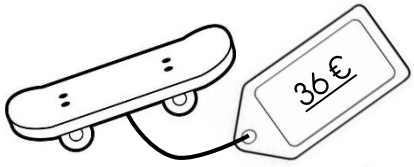

Quelle somme Thibaut a-t-il dans son porte-monnaie ?



Réponse

## Exercice n° 2

Dessine le moins de pièces et de billets possible pour payer ces objets.



## Exercice n° 3



Calcule ces opérations.



- a)  $3 \text{ €} + 6 \text{ €} 40 = \dots\dots\dots$
- b)  $5 \text{ €} 20 + 2 \text{ €} 30 = \dots\dots\dots$
- c)  $8 \text{ €} + 5 \text{ €} 70 = \dots\dots\dots$
- d)  $9 \text{ €} + 3 \text{ €} 10 = \dots\dots\dots$
- e)  $4 \text{ €} 80 + 2 \text{ €} = \dots\dots\dots$
- f)  $15 \text{ €} + 6 \text{ €} 30 = \dots\dots\dots$

<http://laclassebleue.fr/>

# Le m'entraîne



## Exercice n° 1

Calcule ces opérations.

a)  $5 \text{ €} + 2 \text{ €} 40 = \dots\dots\dots$

c)  $7 \text{ €} 50 - 1 \text{ €} 20 = \dots\dots\dots$

b)  $13 \text{ €} 10 + 9 \text{ €} = \dots\dots\dots$

d)  $3 \text{ €} - 0 \text{ €} 75 = \dots\dots\dots$



## Exercice n° 2

Louison a cette somme dans son porte-monnaie. Il veut acheter ces rollers.

Entoure ce qu'il va dépenser.



Il lui restera .....

## Exercice n° 3

Anais veut acheter ce gâteau. Dessine les pièces et les billets qui lui manquent.

